

NOME: _____

DATA: __/__/____ CARGO: _____

TREINAMENTO: ADMISSÃO

APLICADOR: Central de Cursos do Brasil

PERIÓDICO

Avaliação

Tipos de EPI conforme NR-06

Instruções

- Responda cada questão com atenção. Lembre-se dos conhecimentos adquiridos durante o treinamento.
- Cada questão possui apenas uma alternativa correta.
- Não se esqueça de colocar seu nome e as informações pedidas no cabeçalho.
- Você pode assinalar a letra ou o retângulo ao lado, como no exemplo:

a) N

ou

N

Sugerimos que você use apenas uma forma de marcação.

- Antes de entregar, confira se respondeu todas as questões.

Direitos e obrigações

1. Qual das opções não apresenta um direito ou obrigação no uso dos EPIs?
 - a) A organização deve fornecer ao empregado, gratuitamente, EPI adequado ao risco, em perfeito estado de conservação.
 - b) A organização deve registrar o fornecimento de EPI ao empregado, podendo ser adotados livros ou fichas, mas sendo proibido sistema eletrônico, inclusive o biométrico.
 - c) O trabalhador deve utilizar apenas para a finalidade a que se destina.
 - d) O empregado deve comunicar à organização quando extraviado, danificado ou qualquer alteração que o torne impróprio para uso.

EPI para proteção da cabeça

2. Observe a figura a seguir. Após, assinale o EPI adequado ao serviço ilustrado:






<p>a) <input type="checkbox"/> Capacete para proteção contra impactos de objetos sobre o crânio</p>	
<p>b) <input type="checkbox"/> Capacete para proteção do crânio e face contra agentes térmicos</p>	
<p>c) <input type="checkbox"/> Capuz para proteção do crânio e pescoço contra umidade proveniente de operações com utilização de água</p>	
<p>d) <input type="checkbox"/> Capacete para proteção contra choques elétricos</p>	

EPI para proteção dos olhos e face

3. Observe a figura a seguir. Após, assinale o EPI adequado ao serviço ilustrado:



<p>a) <input type="checkbox"/> Óculos para proteção dos olhos contra radiação ultravioleta</p>	
<p>b) <input type="checkbox"/> Máscara para proteção dos olhos e face contra impactos de partículas volantes, radiação ultravioleta, radiação infravermelha e luminosidade intensa</p>	
<p>c) <input type="checkbox"/> Protetor facial para proteção da face contra radiação ultravioleta</p>	
<p>d) <input type="checkbox"/> Óculos para proteção dos olhos contra radiação infravermelha</p>	



EPI para proteção auditiva



4. Qual destes EPIs não é adequado à proteção auditiva?

<p>a) <input type="checkbox"/> Protetor auditivo circum-auricular para proteção do sistema auditivo contra níveis de pressão sonora superiores ao estabelecido na NR-15, Anexos nº 1 e 2</p>	
<p>b) <input type="checkbox"/> Protetores Auditivos de Inserção Pré-Moldados</p>	
<p>c) <input type="checkbox"/> Capuz para proteção do crânio e pescoço contra agentes abrasivos e escoriantes</p>	
<p>d) <input type="checkbox"/> Protetor auditivo de inserção moldável</p>	

EPI para proteção respiratória

5. Indique qual dos EPIs abaixo não consiste em proteção respiratória:



<p>a) <input type="checkbox"/> Protetor semi-auricular para proteção do sistema auditivo contra níveis de pressão sonora superiores ao estabelecido na NR-15, Anexos nº 1 e 2.</p>	
<p>b) <input type="checkbox"/> Respirador purificador de ar motorizado</p>	



<p>c) <input type="checkbox"/> Respirador de adução de ar tipo linha de ar comprimido</p>	
<p>d) <input type="checkbox"/> Respirador purificador de ar não motorizado</p>	

EPI para proteção do tronco

6. Observe a figura a seguir. Após, assinale o EPI adequado ao serviço ilustrado:





<p>a) <input type="checkbox"/> Vestimenta para proteção do tronco contra umidade proveniente de operações com utilização de água</p>	
<p>b) <input type="checkbox"/> Vestimenta para proteção do tronco contra radiação ionizante</p>	



<p>c) <input type="checkbox"/> Colete à prova de balas</p>	
<p>d) <input type="checkbox"/> Vestimenta para proteção do tronco contra umidade proveniente de precipitação pluviométrica (chuva)</p>	

EPI para proteção dos membros superiores

7. Observe a figura a seguir. Após, assinale o EPI adequado ao serviço ilustrado:





<p>a) <input type="checkbox"/> Creme protetor de segurança para proteção dos membros superiores contra agentes químicos</p>	
<p>b) <input type="checkbox"/> Luvas para proteção das mãos contra vibrações</p>	



<p>c) <input type="checkbox"/> Luvas para proteção das mãos contra agentes cortantes e perfurantes</p>	
<p>d) <input type="checkbox"/> Luvas para proteção das mãos contra radiação ionizante</p>	

EPI para proteção dos membros inferiores

8. Observe a figura a seguir. Após, assinale o EPI adequado ao serviço ilustrado, considerando temperatura de 25 °C:





<p>a) <input type="checkbox"/> Perneira para proteção da perna contra umidade proveniente de operações com utilização de água</p>	
<p>b) <input type="checkbox"/> Perneira para proteção da perna contra agentes cortantes e perfurantes (incluso animal peçonhento)</p>	



<p>c) <input type="checkbox"/> Calça de segurança para bombeiros militares e brigadistas</p>	
<p>d) <input type="checkbox"/> Meia para proteção dos pés contra baixas temperaturas</p>	

EPI para proteção do corpo inteiro

9. Observe a figura a seguir. Após, assinale o EPI adequado ao serviço ilustrado:






<p>a) <input type="checkbox"/> Vestimenta para proteção de todo o corpo contra umidade proveniente de precipitação pluviométrica</p>	
<p>b) <input type="checkbox"/> Vestimenta para proteção de todo o corpo contra umidade proveniente de operações com utilização de água</p>	

<p>c) <input type="checkbox"/> Vestimenta para proteção de todo o corpo contra agentes químicos</p>	
<p>d) <input type="checkbox"/> Macacão para proteção do tronco e membros superiores e inferiores contra agentes químicos</p>	

EPI para quedas em diferença de nível

10. Observe as figuras e assinale o EPI que não é destinado a conter quedas em diferença de nível:

<p>a) <input type="checkbox"/> Cinturão de segurança com talabarte</p>	
<p>b) <input type="checkbox"/> Cinturão de segurança com dispositivo trava-queda para proteção do usuário contra quedas em operações com movimentação vertical ou horizontal</p>	
<p>c) <input type="checkbox"/> Cinturão de segurança com talabarte</p>	
<p>d) <input type="checkbox"/> Perneira para proteção da perna contra agentes térmicos</p>	

 **BOA SORTE!**